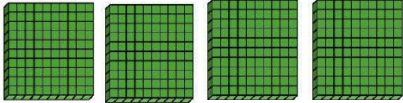
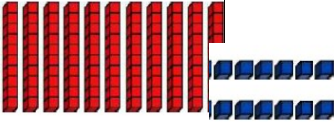
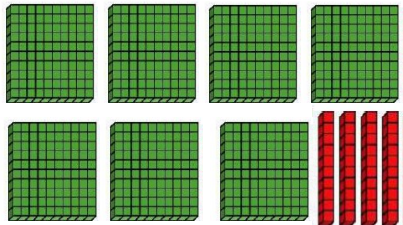


1- Numération :

› Complète le tableau suivant :

	Quel est ce nombre ?	Combien y a-t-il de dizaines?	Écris-le en lettres




2- Problème :

Tu dois résoudre le problème suivant. Mais attention, tu dois écrire le calcul que tu as effectué. Tu dois aussi écrire une phrase réponse.



PROBLÈMES CE1

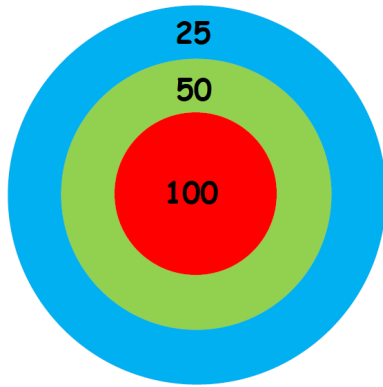
33

La voiture fait des tours de piste pendant 36 minutes. Elle met 3 minutes pour faire 1 tour.

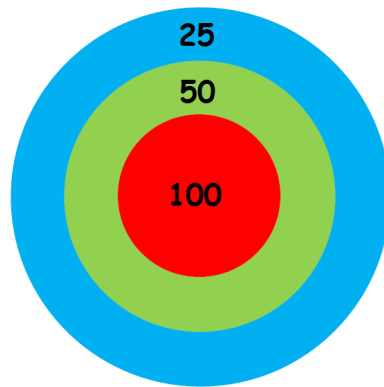
Combien de tours a-t-elle faits ?

3- Calcul : Le jeu de la cible

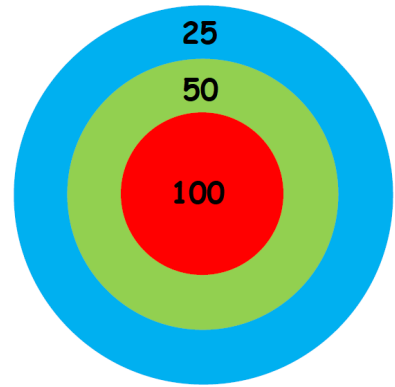
Tu dois atteindre le nombre donné en tirant 5 fléchettes.



375



250



325

4- Calcul posé:

> Pose les opérations suivantes sur ton cahier du jour :

$$38 + 247 + 165$$

$$851 - 264$$