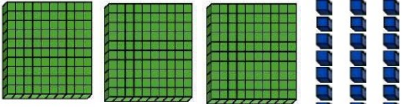
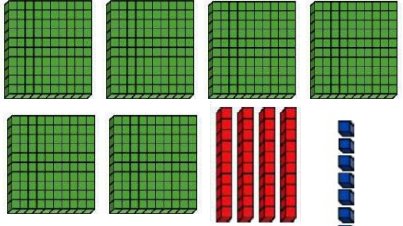


## 1- Numération :

> Complète le tableau suivant :

	Quel est ce nombre ?	Combien y a-t-il de dizaines?	Écris-le en lettres
	.....	.....	..... ..... .....
	.....	.....	..... ..... .....

## 2- Problème :

Tu dois résoudre le problème suivant. Mais attention, tu dois écrire le calcul que tu as effectué. Tu dois aussi écrire une phrase réponse.



# PROBLÈMES CE1

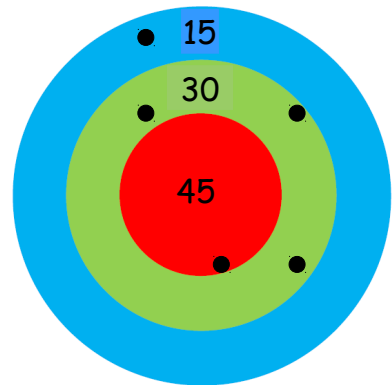
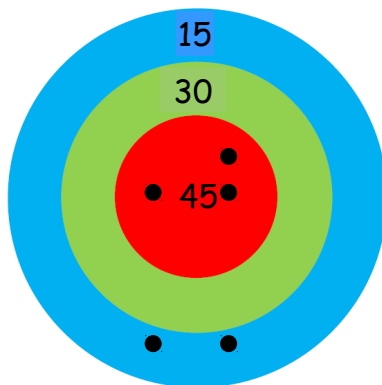
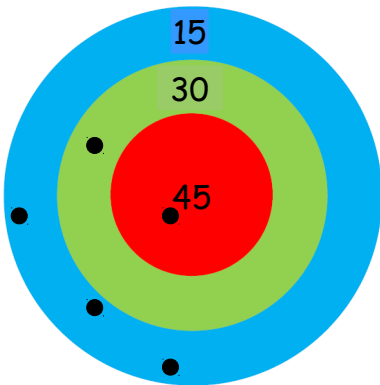
# 36

La maîtresse a compté 63 crayons gris et 49 crayons de couleur dans la classe.

**Combien de crayons compte-t-elle au total ?**

### 3- Calcul : Le jeu de la cible

5 fléchettes ont été tirées dans chaque cible. Calcule combien de points cela représente pour chacune d'entre elles :



### 4- Calcul posé:

> Pose les opérations suivantes sur ton cahier du jour :


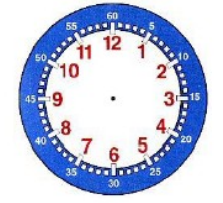
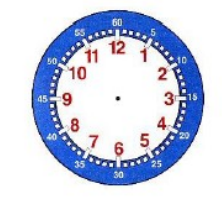
$$369 - 281$$

$$401 - 175$$

### 5- L'heure :

*Dans le cadre 1, indique l'heure qu'il est. Puis dessine les aiguilles dans le cadre 2:*

	<b>HORODATOR ★★</b>	<b>1</b>
		
Il est.....h	Il est.....h	Il est.....h

	<b>HORODATOR ★★</b>	<b>2</b>
		
Il est 5 h	Il est 11 h	Il est 6 h