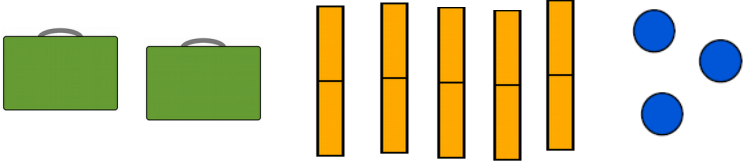
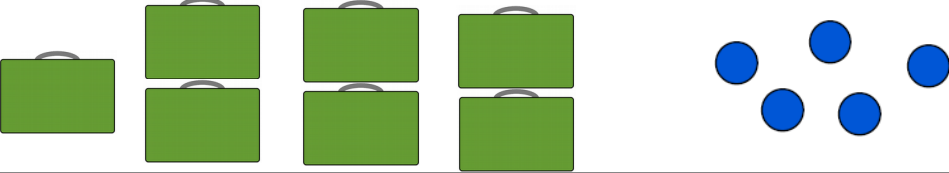



1- Numération :

Quel est le nombre représenté par le matériel suivant :

Représentation du nombre	Nombre
	
	
	

2- Problème :

Tu dois résoudre le problème suivant. Mais attention, tu dois écrire le calcul que tu as effectué. Tu dois aussi écrire une phrase réponse afin de répondre à la question posée.



PROBLÈMES CE1

13

Mes cousins ont chacun un chien. Le caniche fait 12 kg et le labrador pèse deux fois plus.
Combien pèse le labrador ?

3- Le dallage :

Tu dois reproduire le dallage suivant sur ton cahier du jour (aide-toi des carreaux de ton cahier !).

