

## 1- Numération :

Écris le nombre dicté puis la dizaine qui le suit dans les cases suivantes :

Nombre 1	Dizaine suivante
→	

Nombre 2	Dizaine suivante
→	

Nombre 3	Dizaine suivante
→	

## 2- Problème :

Tu dois résoudre le problème suivant. Mais attention, tu dois écrire le calcul que tu as effectué. Tu dois aussi écrire une phrase réponse afin de répondre à la question posée.



## PROBLÈMES CE1



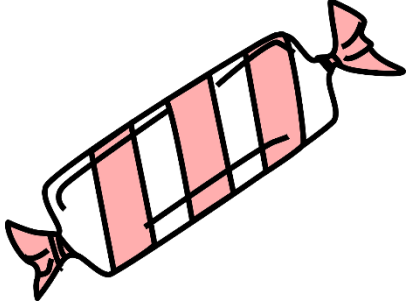
16

Les enfants préparent quatre gâteaux. Il faut 100g de farine pour chaque gâteau. La maîtresse a déjà donné 200g.

**Combien manque-t-il de farine ?**

### 3- La monnaie :

Dessine l'argent nécessaire pour acheter chacune des choses suivantes (aide-toi de la fiche « Monnaie ») :

 <p><b>92 centimes</b></p>	 <p><b>73 centimes</b></p>	 <p><b>67 centimes</b></p>

