

1- Calcul:

Écoute bien les calculs et dis combien il y a de centaines :

Calcul 1

.....centaines

Calcul 2

.....centaines

Calcul 3

.....centaines

2- Problème :

Tu dois résoudre le problème suivant. Mais attention, tu dois écrire le calcul que tu as effectué. Tu dois aussi écrire une phrase réponse afin de répondre à la question posée.



PROBLÈMES CE1

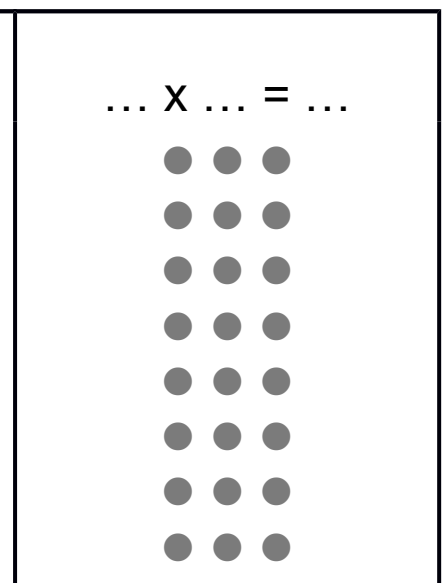


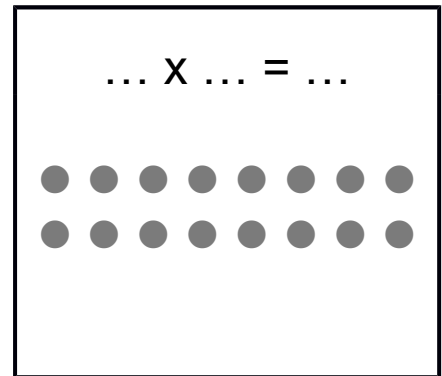
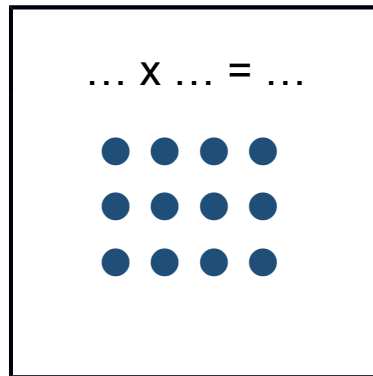
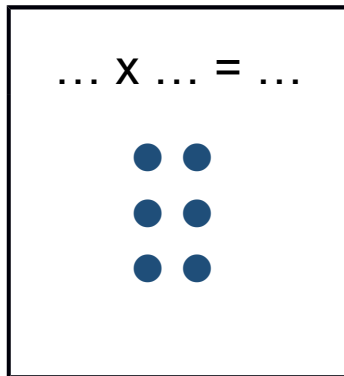
19

Pour coudre des rideaux pour sa maison, madame Duval a acheté 4 rouleaux de tissu. Chaque rouleau comporte 2 mètres de tissus.

Quelle longueur de tissus a-t-elle au total ?

3- La multiplication :

Tu vas devoir identifier les produits (les multiplications) représentés par les points. Pour cela, tu vas devoir faire des « paquets ».



4- Numération :

> Range ces nombres du plus petit au plus grand :

283 - 76 - 458 - 489 - 865 - 178 - 37 - 909

> Mets le signe qui convient (< , >)

186 _____ 79

81 _____ 700

624 _____ 820

480 + 8 _____ 408

283 _____ 382

800 + 7 _____ 800 + 10