

1- Calcul :

Écris le résultat des calculs dictés :

Case 1	Case 2	Case 3	Case 4	Case 5
.....

2- Problème :

Tu dois résoudre le problème suivant. Mais attention, tu dois écrire le calcul que tu as effectué. Tu dois aussi écrire une phrase réponse.



PROBLÈMES CE1

35

Dans le champ, l'agriculteur a ramené 16 nouveaux moutons.
Maintenant, son troupeau compte 125 moutons au total.
Combien de moutons avait-il au départ ?

--

3- Calcul : effectuer des additions en ligne

$350 - 20 = \dots$

$852 - 30 = \dots$

$811 - 10 = \dots$

$777 - 60 = \dots$

$728 - 20 = \dots$

$595 - 50 = \dots$

$274 - 20 = \dots$

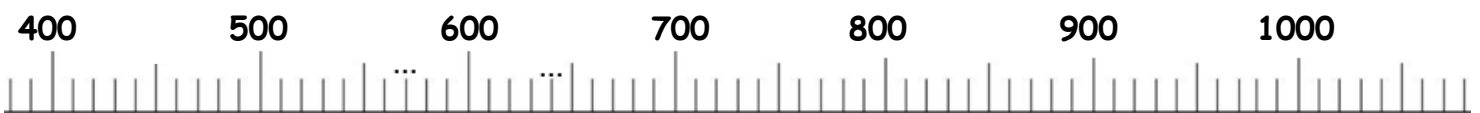
$618 - 30 = \dots$

$973 - 40 = \dots$

$704 - 30 = \dots$

4- Utilisation de la droite graduée :

> Place les nombres suivants sur la droite graduée : 420 ; 580 ; 710


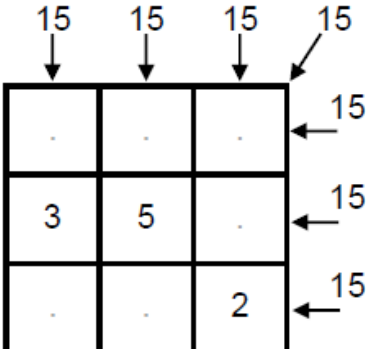


> Calcule les écarts suivants en t'aidant de la droite graduée :

- Quel est l'écart entre 420 et 600 ?
- Quel est l'écart entre 580 et 600 ?
- Quel est l'écart entre 710 et 1000 ?

5- Le carré magique :

> Place les nombres donnés pour que le total des nombres de chaque ligne ou colonne fasse 15 :

	<h1>CARRES MAGIQUES</h1>	<h1>2</h1>
		
Utilise les nombres :		
1,2,3,4 5,6,7,8,9		