

1- Calcul:

Écris les nombres dictés dans les cases suivantes :

Calcul 1

Calcul 2

Calcul 3

Calcul 4

Calcul 5

Calcul 6

2- Problème :

Tu dois résoudre le problème suivant. Mais attention, tu dois écrire le calcul que tu as effectué. Tu dois aussi écrire une phrase réponse afin de répondre à la question posée.



PROBLÈMES CE1

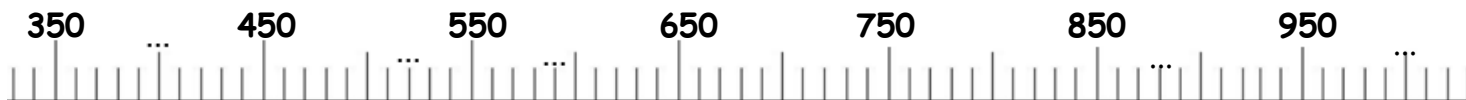
17

Cette semaine, le poissonnier a vendu 50 kg de saumon. Il en a vendu le double la semaine suivante.

Quelle masse totale de poissons a-t-il vendue en deux semaines?

3- Utilisation de la droite graduée :

1/ Complète la droite graduée :



2/ Place les nombres suivants sur la droite graduée : **480** ; **790** ; **940**

4- Calcul mental :

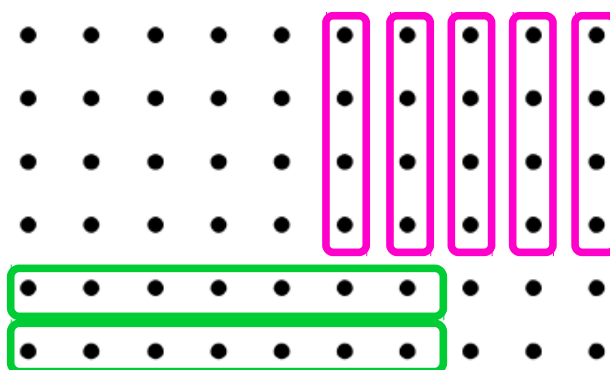
Sur le papier pointé, j'ai entouré

- 2 lignes de 7 points, soit :

$$2 \times 7 = 14$$

- 5 colonnes de 4 points, soit :


$$5 \times 4 = 20$$



Sur le papier pointé ci-dessous, entoure :

- en bleu 6 x 6 points

- en rouge 4 x 9 points



$$6 \times 6 = \dots\dots\dots$$

$$4 \times 9 = \dots\dots\dots$$