

1- Estimer un calcul :

> Écoute le calcul qu'on te donne puis entoure la réponse que tu penses être bonne.

Calcul 1
127 235 679

Calcul 2
65 143 300

Calcul 3
584 610 759

Calcul 4
121 201 528

2- Problème :

Tu dois résoudre le problème suivant, écrire le calcul que tu as effectué et écrire une phrase réponse afin de répondre à la question posée.



PROBLÈMES CE1

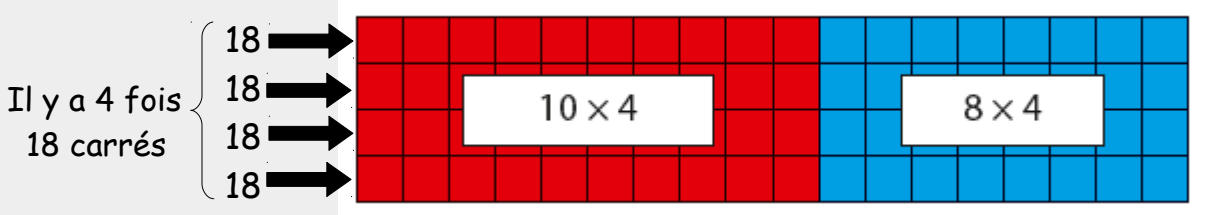
32

Un lustre est équipé de huit ampoules.

Combien faudra-t-il d'ampoules pour équiper 5 lustres ?


3- Calcul : effectuer une multiplication en ligne

Je cherche à calculer 18×4 :



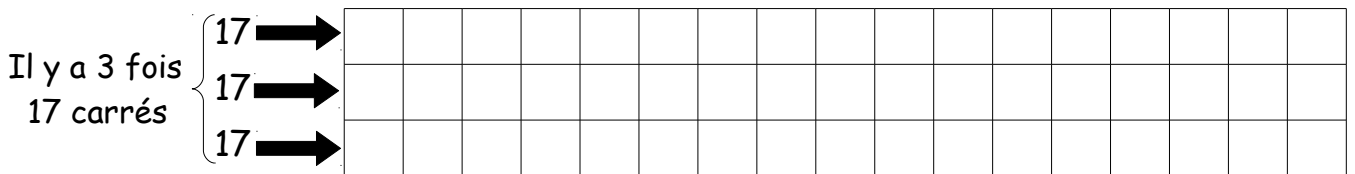
$$\text{Donc } 18 \times 4 = (10 + 8) \times 4 = 10 \times 4 + 8 \times 4 = 40 + 32 = 72$$

> Pour calculer 15×5 , colorie en rouge 10×5 cases et en bleu 5×5 cases.



$$15 \times 5 = (10 + 5) \times 5 = 10 \times 5 + 5 \times 5 = \dots + \dots = \dots$$

> Pour calculer 17×3 , colorie en rouge 10×3 cases et en bleu 7×3 cases.



$$17 \times 3 = (\dots + \dots) \times 3 = \dots \times 3 + \dots \times 3 = \dots + \dots = \dots$$

4- Calcul :

