

Rituels

1. Réciter la comptine numérique (à l'oral) à l'envers à partir de 40 jusqu'à 0 (40, 39, 38, 37.....)

Si votre enfant a besoin, utiliser le tableau numérique de la page 5.

2. Ecriture en chiffres des nombres suivants

47, 17, 62, 40, 15, 26, 16, 30, 14. 20, 12, 58, 13

3. Compléter avec les nombres qui manquent

27	28			31	32	33			36		
----	----	--	--	----	----	----	--	--	----	--	--

	50			53	54	55		57		59	
--	----	--	--	----	----	----	--	----	--	----	--

			40	41	42	43				47	48
--	--	--	----	----	----	----	--	--	--	----	----

Calcul oral

1. Petites additions à l'oral

$5 + 4$, $7 + 2$, $4 + 3$, $6 + 3$, $5 + 3$, $3 + 2$, $4 + 1$, $6 + 4$

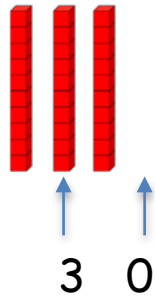
2. Additions sur les dizaines entières à l'oral

$20 + 30$, $40 + 20$, $50 + 10$, $30 + 30$, $20 + 20$

Si votre enfant ne se souvient plus, expliquez lui avec les dizaines.

Exemple : $20 + 10$

20 c'est 2 dizaines
et 10 c'est 1 dizaine.



Cela fait 3 dizaines et 0 unité

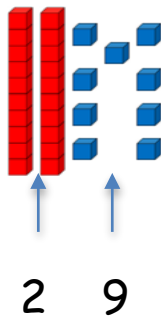
3. Additions de dizaines entières et d'un nombre entre 0 et 9

$20 + 5$, $40 + 9$, $10 + 3$, $50 + 6$, $30 + 7$, $20 + 8$, $10 + 4$,

Si votre enfant ne se souvient plus, expliquez lui avec les dizaines et les unités.

Exemple : $20 + 9$.

20 c'est 2 dizaines
et 9 c'est 9 unités



Problème

Problème (nouveau type de problème)


Pour mon goûter d'anniversaire , j'ai invité 7 copains. Je veux leur donner à chacun 3 bonbons.


Combien de bonbons dois-je acheter ? »

Votre enfant essaie de lire tout seul le problème. Vous l'aidez s'il a besoin, puis il essaie de résoudre le problème en faisant un schéma ou d'une autre façon.

Apprentissage

Révision : Dénumbrer en faisant des paquets de 10.





Révision de l'heure (heure entière et demi heure)

Donne l'heure

Quelle heure est-il?



A clock face with numbers 1-12. The hour hand is on 1 and the minute hand is on 12. A robot character is thinking.

Il esth.

Donne l'heure

Quelle heure est-il?



A clock face with numbers 1-12. The hour hand is on 7 and the minute hand is on 12. A robot character is thinking.

Il esth

Donne l'heure

Quelle heure est-il?



A clock face with numbers 1-12. The hour hand is on 10 and the minute hand is on 12. A robot character is thinking.

Il esth

Donne l'heure

Quelle heure est-il?



A clock face with numbers 1-12. The hour hand is on 6 and the minute hand is on 12. A robot character is thinking.

Il esth.

Donne l'heure

Quelle heure est-il?



A clock face with numbers 1-12. The hour hand is on 9 and the minute hand is on 12. A robot character is thinking.

Il esth

Donne l'heure

Quelle heure est-il?

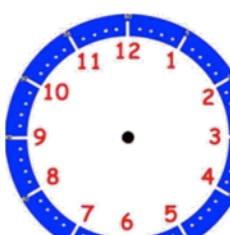


A clock face with numbers 1-12. The hour hand is on 3 and the minute hand is on 12. A robot character is thinking.

Il esth

Ecris l'heure

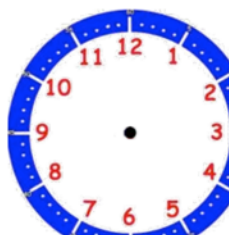
Ecris l'heure : 7h00



A blank clock face with numbers 1-12. A robot character is thinking.

Ecris l'heure

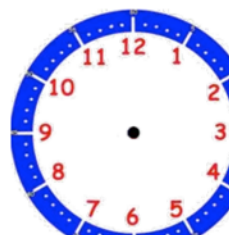
Ecris l'heure : 1h00



A blank clock face with numbers 1-12. A robot character is thinking.

Ecris l'heure

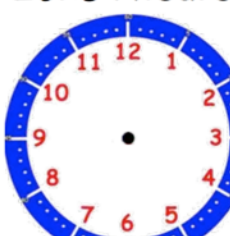
Ecris l'heure : 10h00



A blank clock face with numbers 1-12. A robot character is thinking.

Ecris l'heure


Ecris l'heure : 6h30



A blank clock face with numbers 1-12. A robot character is thinking.

Ecris l'heure

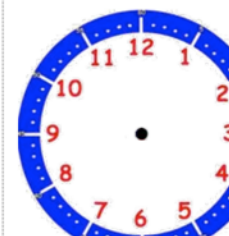
Ecris l'heure : 10h30



A blank clock face with numbers 1-12. A robot character is thinking.

Ecris l'heure


Ecris l'heure : 5h30



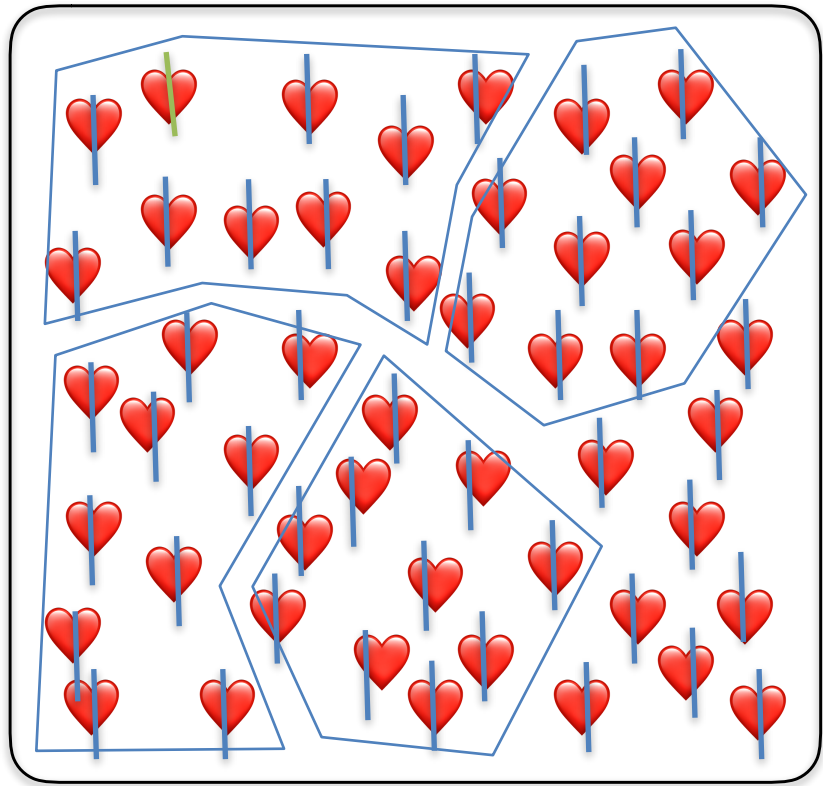
A blank clock face with numbers 1-12. A robot character is thinking.

0	1	2	3	4	5	6	7	8	9
10	11	12	13	14	15	16	17	18	19
20	21	22	23	24	25	26	27	28	29
30	31	32	33	34	35	36	37	38	39
40	41	42	43	44	45	46	47	48	49
50	51	52	53	54	55	56	57	58	59
60	61	62	63	64	65	66	67	68	69
70	71	72	73	74	75	76	77	78	79
80	81	82	83	84	85	86	87	88	89
90	91	92	93	94	95	96	97	98	99

Correction :



47



49