

Rituels

1. Réciter la comptine numérique le plus loin possible (au moins jusqu'à 60).
S'arrêter à 100.

2. Ecris les nombres en lettres

20:.....

30 :

40 :

3. Apprendre à écrire en lettres : 50, 60, 11, 12

4. Mets ton doigt sur 25.

- Combien faut-il pour aller à 30 ?.....
- Combien faut-il pour aller à 35 ?.....
- Combien faut-il pour aller à 50 ?.....

1	2	3	4	5	6	7	8	9	10
11	12	13	14	15	16	17	18	19	20
21	22	23	24	25	26	27	28	29	30
31	32	33	34	35	36	37	38	39	40
41	42	43	44	45	46	47	48	49	50

Dicté à l'oral et votre enfant écrit la réponse sur ardoise ou feuille.
(Il peut dessiner avec les dizaines et unités)

$27 + 12$, $13 + 11$, $21 + 35$

Si votre enfant ne se souvient plus, vous pouvez reprendre ce qui a été fait lundi dernier

Problème

Regarde bien la photo.
C'est un dessert pour une personne.



1 . Combien faut-il de morceaux de pommes pour 2 personnes ?

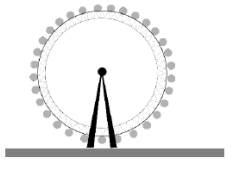


Il faut morceaux de pommes pour 2 personnes.

Il faut une pomme et la moitié d'une autre pour faire ce dessert.

2 . Combien faut-il de pommes pour faire le dessert pour 2 personnes ?

Il faut pommes pour faire ce dessert pour 2.

LE PARC

	ENFANT	ADULTE
	6 €	7 €
	4 €	5 €
	2 €	3 €

Regarde attentivement l'affiche.

Cette affiche représente le prix de plusieurs attractions d'un parc. Il y a la grande roue, le grand huit et le manège. Le tarif n'est pas le même si tu es un enfant ou un adulte.

Réponds aux questions :

1. Quel est le prix d'une entrée au **grand huit** pour un **adulte** ?

Le prix d'une entrée au grand huit pour un adulte est de

2. Quel est le prix d'une entrée à la **grand roue** pour un **enfant** ?

Le prix d'une entrée à la grande roue pour un enfant est de

3. Quelle **attraction** coûte **7€** pour un **adulte** ?

L'attraction qui coûte 7€ pour un adulte est

4. Combien va payer une famille composée de la **mère**, du **père** et d'un **enfant** pour monter sur la **grande roue** ?

La famille va payer