

Rituels







1 . Dictée de nombres sur ardoise

• 95, 70, 82, 71, 63, 99, 65

puis les ranger du plus petit au plus grand.

2 . Quel est ce nombre ?

Trouver à quel nombre correspond chaque représentation

		<input data-bbox="623 687 816 829" type="text"/>
		<input data-bbox="623 862 816 1006" type="text"/>
		<input data-bbox="623 1061 816 1198" type="text"/>

Calcul mental

Révision tables d'addition 4 et 5

Interroger sur les tables d'addition $1 + 5$, $9 + 5$, $5 + 5$, $7 + 5$

Utiliser la [fiche suivi des tables](#) pour noter la progression de votre enfant.

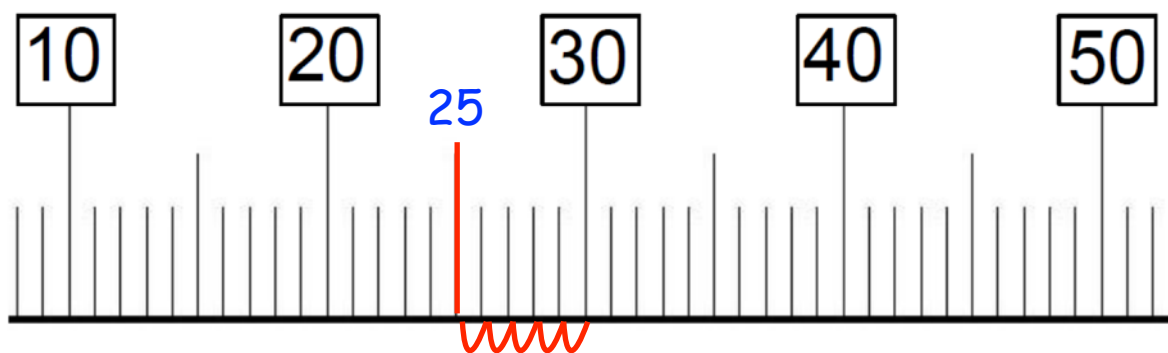
Problème

Dans la mare, Maxime a attrapé 37 têtards. Marie en a trouvé 39.
Combien les deux enfants ont-ils trouvé de têtards ?

Apprentissage droite graduée : suite

Comment trouver la réponse à des opérations à trous grâce à la droite graduée ?

Faire un exemple avec $25 + \dots = 30$

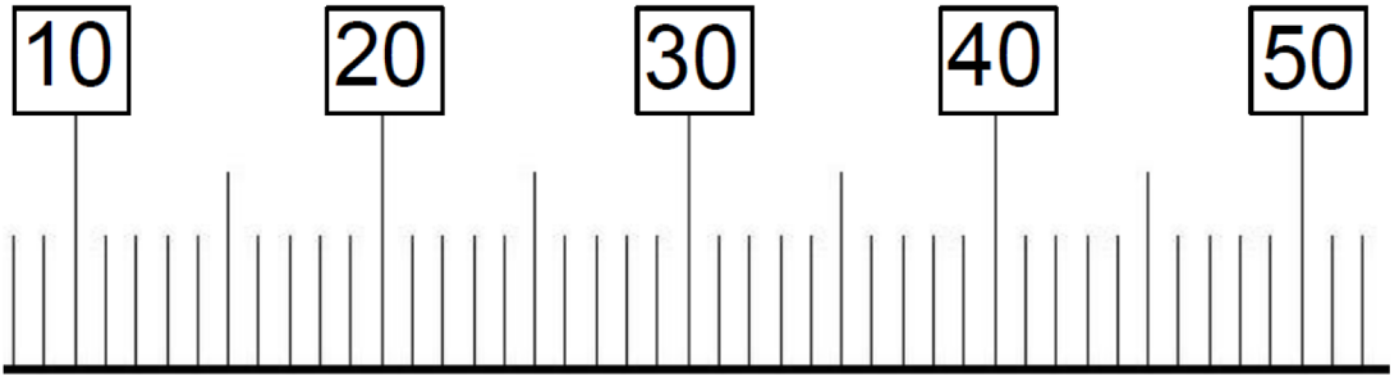


Je place d'abord 25 sur la droite graduée puis je compte le nombre de « sauts » jusqu'à 30. Je trouve 5.

Donc $25 + 5 = 30$

A toi de faire maintenant

- Place 17, 31, 42, 33 sur la droite graduée puis résous les additions à trous avec la droite graduée.



$17 + \dots = 20$

$31 + \dots = 40$

$42 + \dots = 50$

$33 + \dots = 50$